

Аналитический раунд.

Задача 1.

Из предложенного списка выберите не менее шести понятий, относящихся к одной стране. Перенесите таблицу на лист ответов и заполните её (всего 10 баллов):

Аделаида, гилея, Нунавут, Бартоломеу Диаш, секвойя, викунья, сахарный клен, Калимантан, гуроны, Лиссабон, Ньюфаундленд, маквис, залив Фанди, скрэб, гризли, Чад, Манитоба, ехидна.

Страна ?????????????????? (1 балл)	
Столица ?????????????????? (1 балл)	
Государственный язык ?????????????????? (1 балл)	
Бывшая метрополия ?????????????????? (1 балл)	
Понятие 1 (по 0,5 балла)	Обоснование выбора понятия: (по 0,5 балла)
Понятие 2	Обоснование выбора понятия:
Понятие 3	Обоснование выбора понятия:
Понятие 4	Обоснование выбора понятия:
Понятие 5	Обоснование выбора понятия:
Понятие 6	Обоснование выбора понятия:

Задача 2.

Прочитайте текст и ответьте на ряд вопросов (за ответ на вопрос – 1 балл, всего 10 баллов):

Более месяца плыл он по этому полному опасности водному пути. Пролив зачастую разветвлялся на рукава, и нельзя было угадать, какой из них приведет к желанной цели. Всё время, опасаясь мелей и огибая встречные скалы, он думал, что если из этих вод найдет выход в другой океан, то будет первым, кто открыл путь вокруг Земли. Этот пролив, который он назвал Патагонским, впоследствии был переименован в пролив его имени.

1. Что это за пролив?
2. Кто впервые прошел им?
3. Как называется океан, куда вёл Патагонский пролив?
4. Почему этот океан был назван именно так?
5. Какие два географических объекта разделяет этот пролив?
6. В каком году началась эта экспедиция?
7. В каком году эта экспедиция закончилась?
8. Какое животное названо в честь руководителя экспедиции?
9. На каком архипелаге погиб командир этой экспедиции?
10. Какие острова были на самом деле целью экспедиции?

Задача 3.

Определите, о каком острове из 5 предложенных, идет речь в тексте и ответьте на дополнительные вопросы (всего 10 баллов):

«На острове обнаружены богатые залежи нефти, газа, цинка, свинца, серебра, урана, каменного угля. Добывают только криолоит, уголь, цинк и свинец. Остальные полезные ископаемые, особенно нефть и газ, законсервированы. Основу экономики острова

составляют рыболовство и переработка рыбы (треска, сельдь, палтус и др.). По добыче креветок остров занимает первое место в мире. На юге разводят неприхотливую фарерскую породу овец».



Остров 1



Остров 2



Остров 3



Остров 4



Остров 5

1. О каком острове из 5 предложенных идет речь - напишите его номер и название (1 балл)?
2. Какой стране принадлежит этот остров (1 балл)?
3. В каких природных зонах находится данный остров (по 0,5 балла)?
4. Как называется коренное население этого острова (1 балл)?
5. Как называются летнее и зимнее жилища коренного населения острова (по 0,5 балла)?
6. Какому путешественнику мы обязаны названием этого острова (1 балл)?
7. Как звали путешественника, который первым пересек этот остров с востока на запад (2 балла)?
8. Определите по картинкам остальные острова, записав ответ в формате «номер острова – название» (по 0,5 балла).

Задача 4.

Решите задачу и ответьте на дополнительные вопросы (всего 10 баллов):

Самолет, летевший из Бразилии в Канаду, потерпел крушение и упал в море на 30° с.ш. и 75° з.д. Спасшийся лётчик в резиновой лодке долго плыл на северо-восток и был подобран на корабль в районе с координатами 40° с.ш. и 60° з.д.

1. Определите, в каком море произошла трагедия, в каком океане он был спасен. Объясните перемещение лётчика на северо-восток (по 1 баллу);
2. Если бы катастрофа произошла на 15° южнее, в каком море оказался лётчик (1 балл)?
3. Какие широты моряки называют «ревущими»? Поясните (по 1 баллу);
4. Какие широты принято называть «высокими»? Поясните (по 1 баллу);
5. Какие широты называются «конскими»? Поясните (по 1 баллу).

Задача 5.

Рассмотрите карту и ответьте на ряд вопросов (всего 10 баллов):

1. Какой архипелаг изображен на карте, в какой субъект РФ входит (2 балла)?
2. Вычислите масштаб карты (до 3 баллов за полный ответ);
3. Определите, через сколько метров проведены горизонталы (до 3 баллов за полный ответ);
4. Чем покрыта поверхность северной части острова Северный (1 балл)?
5. Какие события, повлиявшие на состояние окружающей среды острова, происходили здесь с 1958 по 1961 года (1 балл)?

МАКСИМАЛЬНОЕ КОЛИЧЕСТВО БАЛЛОВ - 60

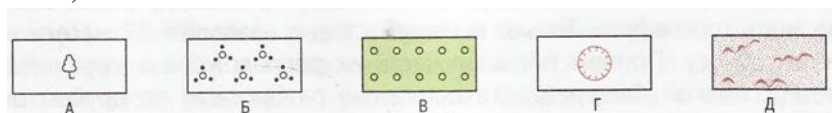
МУНИЦИПАЛЬНЫЙ ЭТАП ВСЕРОССИЙСКОЙ ОЛИМПИАДЫ ШКОЛЬНИКОВ ПО ГЕОГРАФИИ 2019-2020.

8 КЛАСС.

Тестовый раунд.

- Чему равна действительная площадь квадрата, который на карте масштаба 1:35 000 000 изображен со стороной 1 см (0,5 балла)?
- Установите соответствие между сторонами горизонта и их азимутом (по 0,5 балла за соответствие):

1) Восток	а) 225°
2) Запад-северо-запад	б) 90°
3) Юго-запад	в) 270°
4) Запад	г) 293°
- Выберите условный знак, имеющий отношение к сельскохозяйственным угодьям (0,5 балла):



- Сумчатые животные в естественных условиях обитают (0,5 балла):

1) В Австралии;	2) Австралии и Южной Америке;
3) В Австралии и Африке;	4) В Австралии, Южной Америке и Северной Америке.
- Подберите к путешественнику второго по значимости человека в экспедициях (по 0,5 балла за соответствие):

А) Ф. Магеллан	1. М.П. Лазарев
Б) Ф.Ф. Беллинсгаузен	2. Эль-Кано
В) В. Беринг	3. Ю.Ф. Лисянский
Г) М.Ф. Крузенштерн	4. А.И. Чириков
- Мерзлотно-таёжные почвы — характерная черта природы (0,5 балла):

1) Архангельской области;	2) Красноярский край;
3) Камчатского края;	4) Чукотского автономного округа.
- Установите соответствие полезных ископаемых и районов добычи (по 0,5 балла за соответствие):

А) железная руда	1. Уренгойское месторождение
Б) каменный уголь	2. Самотлор
В) природный газ	3. КМА
Г) медно-никелевые руды	4. Талнахское месторождение
Д) нефть	5. Норильский ПТК
Е) никель	6. Печорский бассейн

- Определите регион России по описанию (1 балл):
 «Этот край расположен на юго-востоке Западной Сибири. В крае преобладают два типа ландшафтов: на востоке – горный, на западе – степной. Здесь богатый растительный и животный мир. Край знаменит месторождениями яшмы, малахита, мрамора, гранита, минеральными и питьевыми водами, лечебными грязями. В регионе расположена здравница федерального значения – город-курорт Белокуриха».

Аналитический раунд.

Задача 1.

Из предложенного списка выберите не менее шести понятий, относящихся к одной стране. Перенесите таблицу на лист ответов и заполните её (всего 10 баллов):

Аделаида, гилея, Нунавут, Бартоломеу Диаш, секвойя, викунья, сахарный клен, Калимантан, гуроны, Лиссабон, Ньюфаундленд, маквис, залив Фанди, скрэб, гризли, Чад, Манитоба, ехидна.

Страна ???????????????? (1 балл)	
Столица ????????????????? (1 балл)	
Государственный язык ????????????????? (1 балл)	
Бывшая метрополия ???????????????? (1 балл)	
Понятие 1 (по 0,5 балла)	Обоснование выбора понятия: (по 0,5 балла)
Понятие 2	Обоснование выбора понятия:
Понятие 3	Обоснование выбора понятия:
Понятие 4	Обоснование выбора понятия:
Понятие 5	Обоснование выбора понятия:
Понятие 6	Обоснование выбора понятия:

Задача 2.

Прочтите отрывок из очерка о великом открытии и ответьте на вопросы (по 1 баллу; всего 10 баллов):

«Здесь за ледяными полями мелкого льда и ледяными островами виден материк льда, коего края отломаны перпендикулярно и который продолжался по мере нашего зрения, возвышаясь к югу подобно берегу. Плоские ледяные острова, близ сего материка находящиеся, явно показывают, что они суть обломки сего материка, ибо имеют и верхнюю поверхность подобно материку».

1. Какое главное открытие совершила эта экспедиция?
2. В каком году это произошло?
3. Кто командовал этой экспедицией?
4. Назовите помощника и соратника начальника этой экспедиции?
5. Как назывались суда экспедиции?
6. По настоянию какого другого великого путешественника, совершившего кругосветное плавание, был назначен руководитель экспедиции?
7. Памятник руководителю экспедиции находится в Кронштадте, там он стоит, упираясь рукой на глобус, но с глобусом что-то не так. Объясните, чем этот глобус необычен;
8. Во время плавания в тропических широтах руководитель экспедиции высказал гипотезу о происхождении, которую спустя несколько десятилетий подтвердил Дарвин. О происхождении чего?
9. Какие географические объекты названы в честь руководителя экспедиции?
10. Какие географические объекты названы в честь помощника и соратника руководителя экспедиции?

Задача 3.

9 мая 2014 года в городе-герое Севастополе состоялась торжественная закладка Аллеи России. Представители всех 85 субъектов РФ высадили «зеленые символы», отражающие особенности природы, истории и культуры своего региона. Это более 300 деревьев,

кустарников, трав и цветов. Пользуясь представленной информацией, перенесите таблицу на лист ответов и заполните пустые ячейки (всего 10 баллов):

Растение	Субъект РФ (по 1 баллу)	Координаты административного центра субъекта РФ	Природные зоны (по 1 баллу)
брусника		64° с.ш. и 40° в.д.	
Можжевельник высокий		45° с.ш. и 34° в.д.	
ковыль		45° с.ш. и 39° в.д.	
Полярная ива		69° с.ш. и 33° в.д.	
Солянка		46° с.ш. 44° в.д.	

Задача 4.

Перед вами стихотворное описание городов двух не граничащих друг с другом субъектов Российской Федерации, но входящих в один экономический район. Определите города и ответьте на дополнительные вопросы (всего 10 баллов).

Город № 1 (1 балл)

...Снег да снег вокруг,
А под ним – мерзлота
И Полярный круг.
А в земной глубине,
Будто монолит,
В тишине,
В белом сне
Черный уголь спит.

М. Лисянский

Город № 2 (1 балл)

...Сады. Желтеющие зданья
Меж зеленеющих садов
И тёмный, будто из преданья,
Квартал дряхлеющих дворов,
Архитектурный чей-то опус
Среди квартала... Дым густой...
...Кончаясь лишь на этом склоне,
Видны повсюду тополя,
И там, светясь, в тумане тонет
Глава безмолвного кремля...

Н. Рубцов

1. В состав какого субъекта РФ входит город № 1. Назовите административный центр этого субъекта (по 1 баллу)?
2. Административным центром какого субъекта РФ является город № 2 (1 балл)?
3. Назовите экономический район, куда входят оба этих субъекта РФ (1 балл)?
4. Назовите угольный бассейн, о котором идет речь в стихотворении о городе № 1 (1 балл);
5. Назовите объект Всемирного природного наследия ЮНЕСКО, находящийся на территории субъекта с городом № 1 (1 балл);
6. В городе № 2 много необычных памятников, один из них посвящен букве русского алфавита. Какой букве посвящен памятник и почему (до 2 баллов)?

Задача 5.

Рассмотрите карту и ответьте на ряд вопросов (всего 10 баллов):

1. Какой архипелаг изображен на карте, в какой субъект РФ входит (2 балла)?
2. Вычислите масштаб карты (до 3 баллов за полный ответ);
3. Определите, через сколько метров проведены горизонталы (до 3 баллов за полный ответ);
4. Чем покрыта поверхность северной части острова Северный (1 балл)?
5. Какие события, повлиявшие на состояние окружающей среды острова, происходили здесь с 1958 по 1961 года (1 балл)?

МАКСИМАЛЬНОЕ КОЛИЧЕСТВО БАЛЛОВ - 60

Аналитический раунд.

Задача 1.

Из предложенного списка выберите не менее шести понятий, относящихся к одной стране. Перенесите на лист ответов таблицу и заполните её (всего 10 баллов):

Аделаида, гилея, Нунавут, Бартоломеу Диаш, секвойя, викунья, сахарный клен, Калимантан, гуроны, Лиссабон, Ньюфаундленд, маквис, залив Фанди, скрэб, гризли, Чад, Манитоба, ехидна.

Страна ????????????????? (1 балл)	
Столица ????????????????? (1 балл)	
Государственный язык ????????????????? (1 балл)	
Бывшая метрополия ????????????????? (1 балл)	
Понятие 1 (по 0,5 балла)	Обоснование выбора понятия: (по 0,5 балла)
Понятие 2	Обоснование выбора понятия:
Понятие 3	Обоснование выбора понятия:
Понятие 4	Обоснование выбора понятия:
Понятие 5	Обоснование выбора понятия:
Понятие 6	Обоснование выбора понятия:

Задача 2.

9 мая 2014 года в городе-герое Севастополе состоялась торжественная закладка Аллеи России. Представители всех 85 субъектов РФ высадили «зеленые символы», отражающие особенности природы, истории и культуры своего региона. Это более 300 деревьев, кустарников, трав и цветов. Пользуясь представленной информацией, перенесите таблицу на лист ответов и заполните пустые ячейки (всего 10 баллов):

Растение	Субъект РФ (по 1 баллу)	Координаты административного центра субъекта РФ	Природные зоны (по 1 баллу)
брусника		64° с.ш. и 40° в.д.	
Можжевельник высокий		45° с.ш. и 34° в.д.	
ковыль		45° с.ш. и 39° в.д.	
Полярная ива		69° с.ш. и 33° в.д.	
Солянка		46° с.ш. 44° в.д.	

Задача 3.

Перед вами стихотворное описание городов двух не граничащих друг с другом субъектов Российской Федерации, но входящих в один экономический район. Определите города и ответьте на дополнительные вопросы (всего 10 баллов).

Город № 1 (1 балл)

*...Снег да снег вокруг,
А под ним – мерзлота
И Полярный круг.
А в земной глубине,
Будто монолит,
В тишине,
В белом сне
Черный уголь спит.*

М. Лисянский

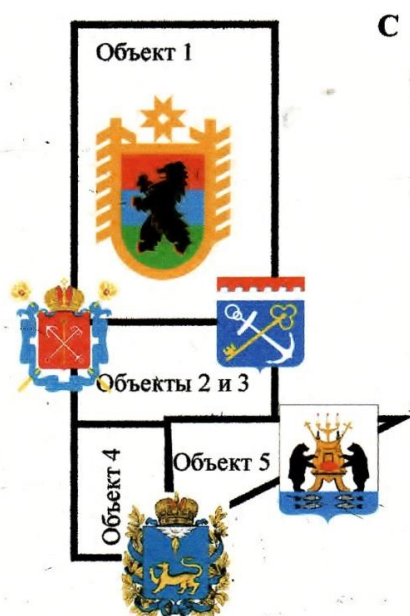
Город № 2 (1 балл)

*...Сады. Желтеющие зданья
Меж зеленеющих садов
И тёмный, будто из преданья,
Квартал дряхлеющих дворов,
Архитектурный чей-то опус
Среди квартала... Дым густой...
...Кончаясь лишь на этом склоне,
Видны повсюду тополя,
И там, светясь, в тумане тонет
Глава безмолвного кремля...* Н. Рубцов

1. В состав какого субъекта РФ входит город № 1. Назовите административный центр этого субъекта (*по 1 баллу*)?
2. Административным центром какого субъекта РФ является город № 2 (*1 балл*)?
3. Назовите экономический район, куда входят оба этих субъекта РФ (*1 балл*)?
4. Назовите угольный бассейн, о котором идет речь в стихотворении о городе № 1 (*1 балл*);
5. Назовите объект Всемирного природного наследия ЮНЕСКО, находящийся на территории субъекта с городом № 1 (*1 балл*);
6. В городе № 2 много необычных памятников, один из них посвящен букве русского алфавита. Какой букве посвящен памятник и почему (*до 2 баллов*)?

Задача 4.

Перед вами тематическая картосхема. Определите субъекты РФ, представленные на картосхеме по гербам, из списка выберите по 5 объектов или понятий, связанных с представленными субъектами и заполните таблицу (*до 10 баллов*):



Список объектов или понятий:

Кизи, княгиня Ольга, берестяные грамоты, оятская керамика, КИНЕФ, парадная, Надвоицкий алюминиевый завод, ПАО «Акрон», Мшинская болотная система, заонежская вышивка, «Электросила», Кивач, «Калевала», село Михайловское, памятник «Тысячелетие России», Тихвинский Богородичный Успенский монастырь, Вернадский В.И., Щелейки, братья Лаптевы, Ильмень, Александровская колонна, валдайские колокола, Ледовое побоище, Печоры, ОАО «Кировский завод».

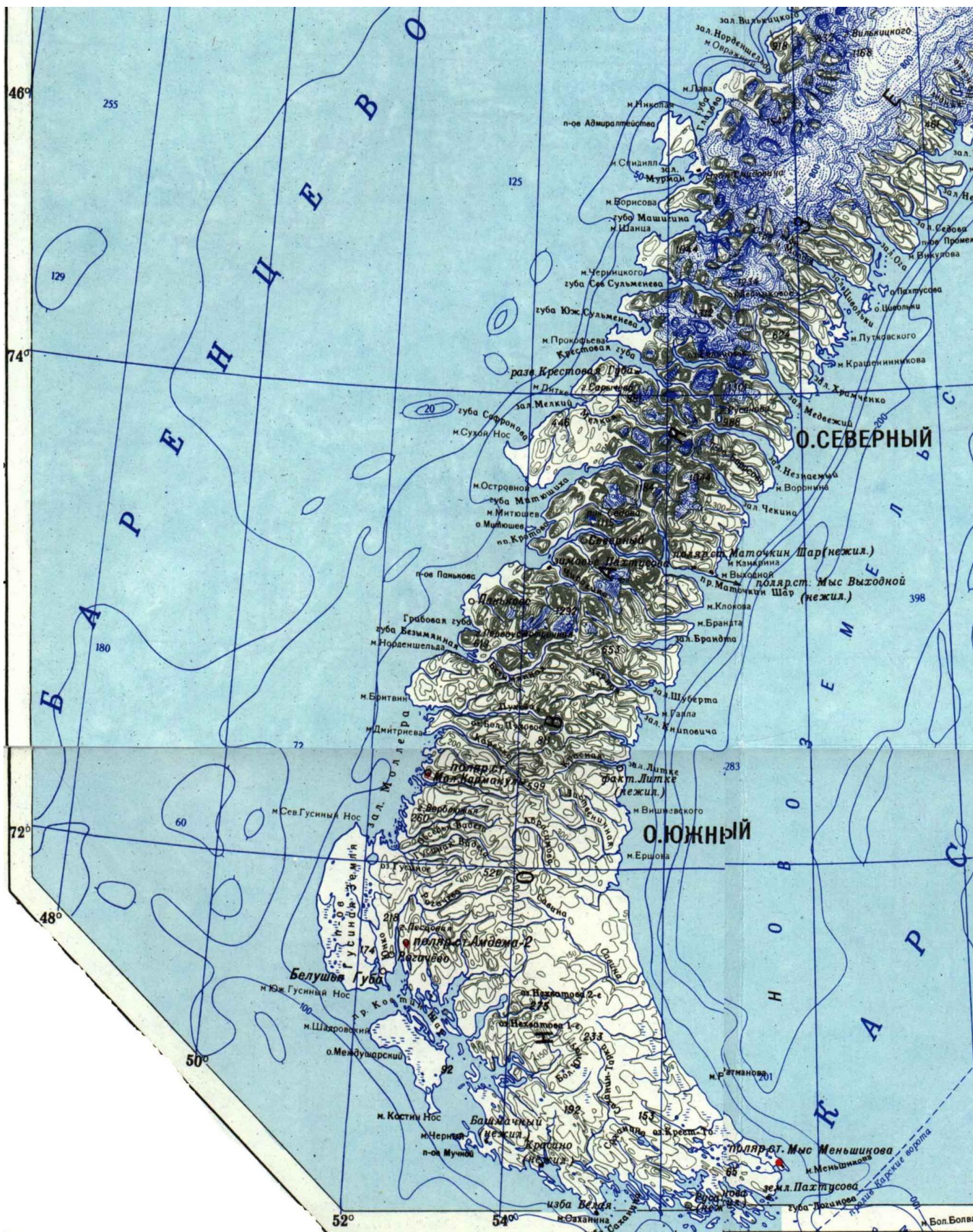
Заполните таблицу:

№	Субъекты РФ	Список объектов или понятий
1		
2		
3		
4		
5		

Задача 5.

Рассмотрите карту и ответьте на ряд вопросов (*всего 10 баллов*):

1. Какой архипелаг изображен на карте, в какой субъект РФ входит (*2 балла*)?
2. Вычислите масштаб карты (*до 3 баллов за полный ответ*);
3. Определите, через сколько метров проведены горизонталы (*до 3 баллов за полный ответ*);
4. Чем покрыта поверхность северной части острова Северный (*1 балл*)?
5. Какие события, повлиявшие на состояние окружающей среды острова, происходили здесь с 1958 по 1961 года (*1 балл*)?



МАКСИМАЛЬНОЕ КОЛИЧЕСТВО БАЛЛОВ - 60

ЛЕНИНГРАДСКАЯ ОБЛАСТЬ
МУНИЦИПАЛЬНЫЙ ЭТАП ВСЕРОССИЙСКОЙ ОЛИМПИАДЫ
ШКОЛЬНИКОВ ПО ГЕОГРАФИИ 2019-2020.

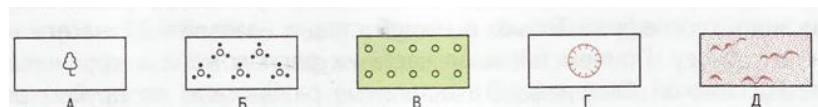
10-11 КЛАССЫ.

Тестовый раунд.

1. Чему равна действительная площадь квадрата, который на карте масштаба 1:35 000 000 изображен со стороной 1 см (0,5 балла)?
2. Установите соответствие между сторонами горизонта и их азимутом (по 0,5 балла за соответствие):

- | | |
|-----------------------|---------|
| 1) Восток | а) 225° |
| 2) Запад-северо-запад | б) 90° |
| 3) Юго-запад | в) 270° |
| 4) Запад | г) 293° |

3. Выберите условный знак, имеющий отношение к сельскохозяйственным угодьям (0,5 балла):



4. Сумчатые животные в естественных условиях обитают (0,5 балла):
- 1) В Австралии; 2) Австралии и Южной Америке;
3) В Австралии и Африке; 4) В Австралии, Южной Америке и Северной Америке.
5. Подберите к путешественнику второго по значимости человека в экспедициях (по 0,5 балла за соответствие):
- | | |
|-----------------------|-------------------|
| А) Ф. Магеллан | 1. М.П. Лазарев |
| Б) Ф.Ф. Беллинсгаузен | 2. Эль-Кано |
| В) В. Беринг | 3. Ю.Ф. Лисянский |
| Г) М.Ф. Крузенштерн | 4. А.И. Чириков |
6. Подберите соответствие «заповедник – экономический район России» (по 0,5 балла за соответствие):
- | | |
|---------------------------------------|----------------------|
| А) Богдинско-Баскунчакский заповедник | 1. Европейский Север |
| Б) Кроноцкий заповедник | 2. Дальний Восток |
| В) Путоранский заповедник | 3. Поволжье |
| Г) Ненецкий заповедник | 4. Восточная Сибирь |
7. Фермеры ряда регионов России привезли на сельскохозяйственную выставку продукты, характеризующие отрасль специализации их территории. Выберите правильное соответствие (0,5 балла).
- 1) Астраханская область – сливочное масло; 2) Республика Карелия – оленина;
3) Волгоградская область – помидоры; 4) Республика Саха (Якутия) – соя.
8. Установите соответствие между страной и государственным языком – (по 0,4 балла за соответствие):
- | | |
|-------------------|------------------|
| А) Ангола | 1. бенгальский |
| Б) Новая Зеландия | 2. английский |
| В) Бангладеш | 3. испанский |
| Г) Бахрейн | 4. португальский |
| Д) Бенин | 5. французский |
| | 6. арабский |

Аналитический раунд.

Задача 1.

Из предложенного списка выберите не менее шести понятий, относящихся к одной стране. Перенесите на лист ответов таблицу и заполните её (всего 10 баллов):

Аделаида, гилея, Нунавут, Бартоломеу Диаш, секвойя, викунья, сахарный клен, Калимантан, гуроны, Лиссабон, Ньюфаундленд, маквис, залив Фанди, скрэб, гризли, Чад, Манитоба, ехидна.

Страна ?????????????????? (1 балл)	
Столица ?????????????????? (1 балл)	
Государственный язык ?????????????????? (1 балл)	
Бывшая метрополия ?????????????????? (1 балл)	
Понятие 1 (по 0,5 балла)	Обоснование выбора понятия: (по 0,5 балла)
Понятие 2	Обоснование выбора понятия:
Понятие 3	Обоснование выбора понятия:
Понятие 4	Обоснование выбора понятия:
Понятие 5	Обоснование выбора понятия:
Понятие 6	Обоснование выбора понятия:

Задача 2.


9 мая 2014 года в городе-герое Севастополе состоялась торжественная закладка Аллеи России. Представители всех 85 субъектов РФ высадили «зеленые символы», отражающие особенности природы, истории и культуры своего региона. Это более 300 деревьев, кустарников, трав и цветов. Пользуясь представленной информацией, перенесите таблицу на лист ответов и заполните пустые ячейки (всего 10 баллов):

Растение	Субъект РФ (по 1 баллу)	Координаты административного центра субъекта РФ	Природные зоны (по 1 баллу)
брусника		64° с.ш. и 40° в.д.	
Можжевельник высокий		45° с.ш. и 34° в.д.	
ковыль		45° с.ш. и 39° в.д.	
Полярная ива		69° с.ш. и 33° в.д.	
Солянка		46° с.ш. 44° в.д.	

Задача 3.

Перед вами тематическая картосхема. Определите субъекты РФ, представленные на картосхеме по гербам, из списка выберите по 5 объектов или понятий, связанных с представленными субъектами и заполните таблицу (до 10 баллов):

№	Субъекты РФ	Список объектов или понятий
1		
2		
3		
4		
5		



Список объектов или понятий:

Кизи, княгиня Ольга, берестяные грамоты, оятская керамика, КИНЕФ, парадная, Надвоицкий алюминиевый завод, ПАО «Акрон», Мшинская болотная система, заонежская вышивка, «Электросила», Кивач, «Калевала», село Михайловское, памятник «Тысячелетие России», Тихвинский Богородичный Успенский монастырь, Вернадский В.И., Щелейки, братья Лаптевы, Ильмень, Александровская колонна, валдайские колокола, Ледовое побоище, Печоры, ОАО «Кировский завод».

Задача 4.

В таблице представлены стихотворные описания социально-экономических и физических объектов. Определите эти объекты и ответьте на дополнительные вопросы. Обратите внимание, что стороны таблицы ориентированы по сторонам горизонта: верх таблицы – север, низ – юг, левая граница – запад, правая граница – восток. Масштаб не соблюден (всего 10 баллов).

<p><u>Объект № 1 (1 балл).</u> ...И каналы, каналы, каналы, Что несутся вдоль глинистых стен, Орошая Дамьетские скалы Розоватыми брызгами пен...</p> <p style="text-align: right;">Н. Гумилев</p>	<p><u>Объект № 3 (1 балл).</u> ...Где идут корабли Не по морю, по лужам, Посредине земли Караваном верблюжьим...</p> <p style="text-align: right;">Н. Гумилев</p>
<p><u>Объект № 2 (1 балл).</u> ...А кругом на широких равнинах, Где трава укрывает жирафа, Садовод всемогущего Бога В серебрящейся мантии крыльев Сотворил отражения рая: Он раскинул тенистые рощи Прихотливых мимоз и акаций, Рассадил по холмам баобабы...</p> <p style="text-align: right;">Н. Гумилев</p>	<p><u>Объект № 4 (1 балл).</u> ...С африканского берега сотни пирог Отплывают и жемчуга ищут вокруг, И стараются их отогнать на восток С аравийского берега сотни фелук...</p> <p style="text-align: right;">Н. Гумилев</p> <p><u>Объект № 5 (1 балл).</u> Аддис-Абеба, город роз, На берегу ручьев прозрачных, Небесный див тебя принес Алмазный средь ущелий мрачных.</p> <p style="text-align: right;">Н. Гумилев</p>

1. Назовите столицы двух стран, представленных в таблице (по 0,5 балла);
2. Назовите природную зону, которая представлена в стихотворном описании объекта № 2 (0,5 балла);
3. Какие географические изменения произошли за последние годы с объектом № 2 (0,5 балла)?
4. В каком году начал функционировать объект № 3 (1 балл)?
5. С какими странами на востоке граничит объект № 4 (по 0,5 балла);
6. Штаб-квартира какой значимой для этого региона организации находится на территории объекта № 5 (1 балл)?

Задача 5.

Рассмотрите карту и ответьте на ряд вопросов (*всего 10 баллов*):

1. Какой архипелаг изображен на карте, в какой субъект РФ входит (2 балла)?
2. Вычислите масштаб карты (*до 3 баллов за полный ответ*);
3. Определите, через сколько метров проведены горизонтالي (*до 3 баллов за полный ответ*);
4. Чем покрыта поверхность северной части острова Северный (1 балл)?
5. Какие события, повлиявшие на состояние окружающей среды острова, происходили здесь с 1958 по 1961 года (*1 балл*)?

МАКСИМАЛЬНОЕ КОЛИЧЕСТВО БАЛЛОВ - 60

